

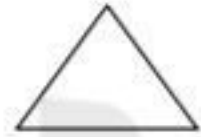
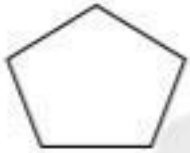


۷- درازی کتاب ریاضی خود را با وجب دست و پاک کن اندازه بگیر و جاهای خالی را پر کن .

درزای کتاب ..... وجب و ..... است .

درزای کتاب ..... پاک کن و ..... پاک کن است .

۸- خط تقارن هر یک از شکل های زیر را رسم کن -



۹- اگر زهرا برای کیک ۲۴ سالگی خود ۱۲ شمع داشته باشد ، او باید چند شمع دیگر تهیه کند ؟ ( از راه فرآیندی )

۱۰- اکنون ساعت ۸ است ۳ ساعت بعد ساعت چند می شود: .....

عددهای ساعت را کامل کن و در پایان جواب به دست آمده را روی ساعت نشان بده.



۱۱- یک فروشنده ۷ بسته ی ده تایی مداد داشت . او ۳۴ تایی آن را فروخت حالا چند مداد برایش باقی مانده است ؟ ( فرآیندی )

۱۲\* مادر بزرگ مینا ۳۶ سال دیگر، تولد صدسالگی خود را جشن می گیرد.

مادر بزرگ، امسال چند ساله است؟

(ب) ۶۴

(الف) ۷۴

(د) ۳۶

(ج) ۶۶

سوال منقوله مادر

ONLINE SCHOOL

۱- در یک مزرعه روی هم ۸ مرغ و گوسفند وجود دارد. آن ها روی هم ۲۰ پا دارند . در این مزرعه چند مرغ و گوسفند وجود دارد ؟

صاحب مزرعه برای مهمانی چند مرغ و گوسفند را برای غذای مهمانی استفاده کرد . حالا در این مزرعه ۱۰ پا وجود دارد . در این مزرعه چه حیوان هایی و به چه تعداد کم شدند؟

۲- در یک تار عنکبوت روی هم ۵ عنکبوت و مورچه که به تار عنکبوت چسبیده بودند وجود دارد . آن ها روی هم ۳۴ پا دارند . تعداد و مورچه را مشخص کن.

مورچه ها در تلاش بودند که خود را نجات دهند بعد از مدتی تعداد پاها ۲۲ تا شد چند مورچه نجات پیدا کردند.

DANA

ONLINE SCHOOL

۳- در یک نخاری، آقای نخار روی هم ۷ صندلی ۳ پایه و ۴ پایه درست کرد. نخار تعداد پایه ها را شمارش کرد و روی هم ۲۴ پایه بود. آقای نخار چند چهار پایه و چند سه پایه درست کرد؟

۴- در یک گلخانه در یک گلدان ۹ گل وجود دارد، این گل ها روی هم ۳۳ گلبرگ دارند. گل های صورتی ۵ گلبرگ و گل های بنفش ۳ گلبرگ دارند. در این گلدان چند گل صورتی و چند گل بنفش وجود دارد؟

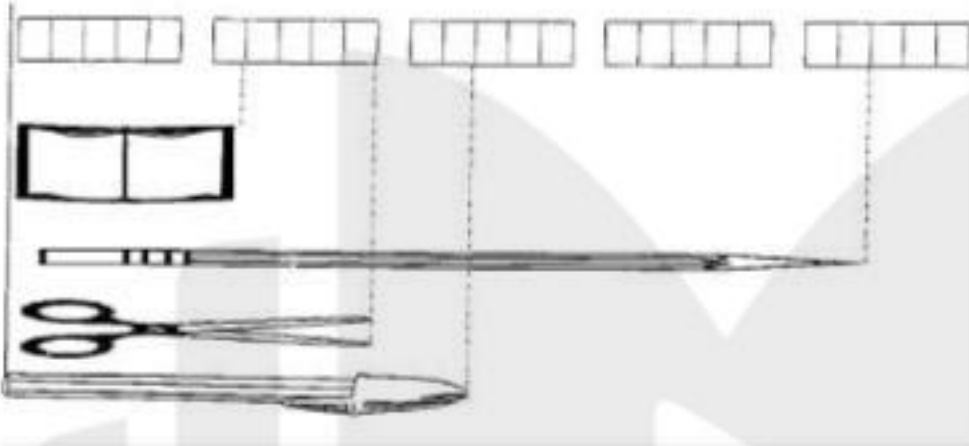
بعد از سه روز چند گل پرپر شد و گلبرگ هایش ریخت و الان روی هم ۱۶ گلبرگ دارند. حساب کن چه گل هایی به چه تعداد پرپر شده است.

۵- برای عبارت های زیر مساله بساز و حل کن.

$$\bigcirc + 54 = 84$$

$$68 - \bigcirc = 23$$

۱- با توجه به شکل زیر ، در جای خالی عدد مناسب بنویس .



- اندازه ی و ..... است .  
 اندازه ی و ..... است .  
 اندازه ی و ..... است .  
 اندازه ی و ..... است .

۲- زمان های خواسته شده را بنویس .



یک ربع بعد از ۸ : ۱۵ دقیقه :

نیم ساعت بعد از ۳ : ۳۰ دقیقه :

یک ساعت بعد از ۱۵ : ۱۰ دقیقه :

۳- الگوی عددی زیر را ادامه بده .

..... و ..... و ۲۵ ، ۳۲

..... و ..... و ۲ ، ۴ ، ۷

..... و ..... و ۸۰ ، ۹۰

۶- با استفاده از خط کش خط هایی به اندازه های زیر رسم کنید.

۴ سانتی متر

۹ سانتی متر

۷- طول خط های زیر را با خط کش اندازه بگیرید و هر کدام را بنویسید.



۸- در یک باغ وحش روی هم ۶ کانگورو و بز وجود دارد. آن ها روی هم ۲۰ پا دارند در این باغ وحش چند کانگورو و بز وجود دارد؟

حدس اول :

حدس دوم :

۹- در یک جنگل روی هم ۷ شتر مرغ و ببر وجود دارد آن ها روی هم ۱۸ پا دارند در این جنگل چند تا شتر مرغ و ببر وجود دارد؟

حدس اول :

حدس دوم :

DANA  
ONLINE SCHOOL