

۵- عدد دو رقمی بنویس که دهگان آن ۶ تا از بیشترین رقم کمتر باشد .  
 و جمع رقم های آن ۱۱ باشد .  
 با رقم های این عدد هر چه می توانی عدد دورقمی بنویس .

۶- با استفاده از جدول حاصل عبارت ها را پیدا کن .

$$\begin{array}{r} ۴۹ \\ + ۳۶ \\ \hline \end{array}$$

$$\begin{array}{r} ۹۹ \\ - ۶۹ \\ \hline \end{array}$$

$$\begin{array}{r} ۵۶ \\ + ۲۳ \\ \hline \end{array}$$

$$\begin{array}{r} ۴۱ \\ - ۳۶ \\ \hline \end{array}$$

$$\begin{array}{r} ۱۴ \\ + ۷۵ \\ \hline \end{array}$$

۶- رقم ۴ در ۴۴ چه تفاوتی با هم دارد ؟

.....  
 .....

۷- محور دهدهی را کامل کن سپس با توجه به آن پاسخ بده .



\*:عددهای ..... و ..... و ..... بین ۳۰ و ۴۰ قرار دارند و به ۳۰ نزدیک تر است .

\*:عددهای ۸۵ و ..... و ..... و ۸۸ بین ..... و ..... قرار دارد و به ۹۰ نزدیک تر است .

\*:عدد ۶۴ و ۵۸ و ۶۱ به ..... نزدیک تر است . \*:عدد ۱۲ و ۹ و ..... به ..... نزدیک تر است .

۱- اگر تو به جای مدادت بودی به بچه ها چه می گفتی ؟ ( دو سطر )

.....  
 .....

۲- در باره ی نعمت های خدا دو سطر بنویس و در آن از کلمه های ( تشکر ، استفاده و مهربان ) استفاده کن .

.....  
 .....

\*:عدد های دو رقمی بنویس که جمع رقم های آن ۹ باشد و یکان آن از ۵ کمتر باشد .

⊗ زمان هر ساعت را بنویس .



شش و سی و سه دقیقه



یک و بیست و شش دقیقه



ده و سی دقیقه



۰۷:۵۰



۰۶:۱۵



۱۱:۵۷

۱) حاصل جمع و تفریق های زیر را با نوشتن راه حل بدست آورید؟ (روش فرایندی)

۳۴	۱۵	۸۷	۶۱	۳۰	۵۹
-۲۱	+۵۳	-۶۴	+۲۵	+۲۸	-۴۳

۲) علی ۴۳ سال دارد و برادرش ۱۴ سال از او بزرگتر است. برادر علی چند سال دارد؟ (به روش فرایندی)

۳) رضا برای جشن ولادت امام رضا (ع) ۸۶ لیوان خرید. او ۵۴ تا از لیوان ها را مصرف کرده

است. چند لیوان برایش باقی مانده است؟ (روش فرایندی)

۱- پسر: الگوها را ادامه بده.



۲، ۵، ۹، ۱۴، ..... و ..... و .....

۱، ۴، ۷، ۱۰، ..... و ..... و .....

۲- ساعت های زیر را به دو صورت بنویس.



.....



.....

۳- جمع و تفریق زیر را به صورت تقریبی حل کن.

$$۸۳ \longrightarrow \dots\dots\dots$$

$$\begin{array}{r} - ۵۴ \\ \hline \end{array} \longrightarrow \begin{array}{r} \hline \hline \end{array}$$

$$۳۴ \longrightarrow \dots\dots\dots$$

$$\begin{array}{r} + ۲۵ \\ \hline \end{array} \longrightarrow \begin{array}{r} \hline \hline \end{array}$$

۴- با ارقام ۳ و ۰ و ۶ هر چند تا می توانی عدد دو رقمی بنویس.

۵- حاصل جمع های زیر را به دست بیاور.

$$۲۰ + ۱۰ + ۲۰ + ۵ + ۲ + ۱۰ =$$

$$۱۰ + ۱۰ + ۵ + ۵ + ۲ + ۱۰ + ۲۰ =$$

۱. دخترم جدول زیر را کامل کن .

شکل	نام شکل	تعداد ضلع	تعداد گوشه
	.....	.....	.....
	مثلث	.....	.....
	.....	.....	.....
	.....	.....	.....



۲. کدام یک از شکل های زیر ضلع های برابر دارد؟ آن را علامت بزن .



شکل هایی که علامت زدی چند ضلع و چند گوشه دارند ؟

..... ضلع و ..... گوشه

..... ضلع و ..... گوشه

۳. شکل های زیر را به عبارت مناسب وصل کن .



۵ ضلع و ۵ گوشه دارد.

۳ ضلع نامساوی دارد.

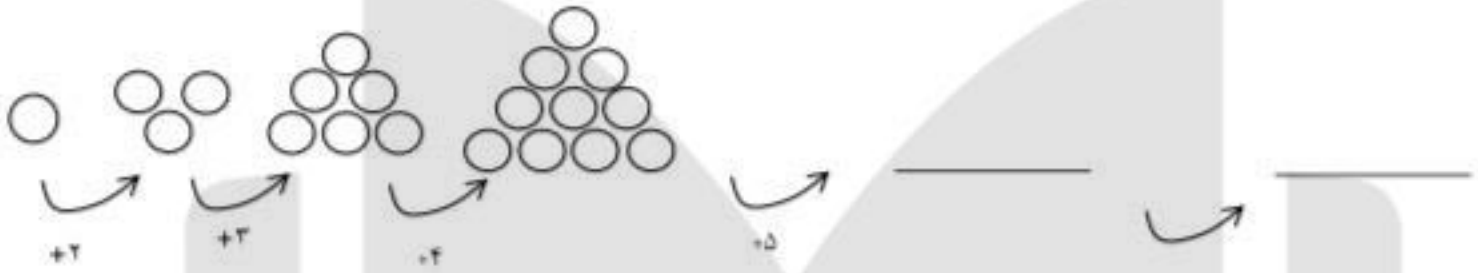


۴ ضلع مساوی دارد .


۳ ضلع برابر دارد.



۹. با رسم شکل الگوی زیر را ادامه بده و بنویس شکل ششم چند تا دایره خواهد داشت ؟

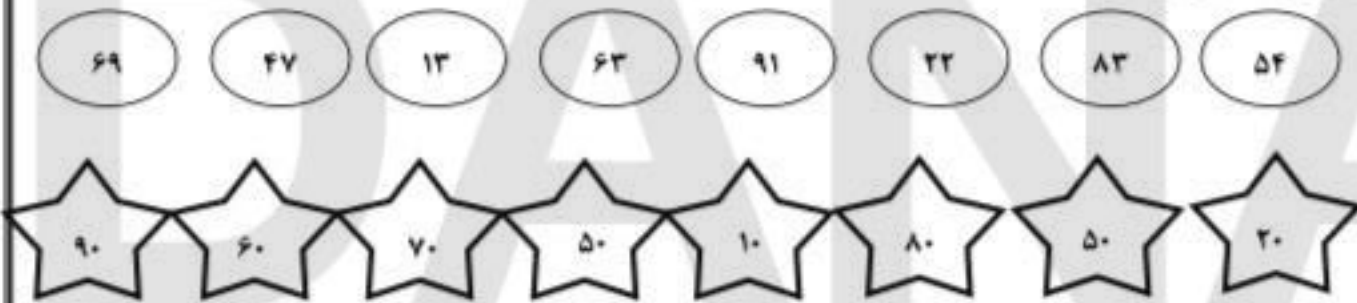


۱۰. وسط ضلع‌ها را پیدا کن و با خط کش به هم وصل کن.



۱۱. در مدرسه ی الغدير روز شنبه ۳۷ نفر و روز پكشنبه ۴۹ نفر در مسابقه ی شنا شركت کردند . در این دو روز روی هم چند نفر در مسابقات شركت کردند ؟ ( فرایندی )

۱۲. تقریب عددهای زیر را به هم وصل کن.



۱۳. به جای علامت سوال چه عددی باید قرار بگیرد ؟

سوال ستاره دار

$$\boxed{1} + 1 \boxed{\phantom{00}} + 2 \boxed{\phantom{00}} - 3 \boxed{\phantom{00}} + 2 \boxed{\phantom{00}} - 1 \boxed{?}$$

هـ ۵

د ۴

ج ۳

ب ۲

الف ۱

