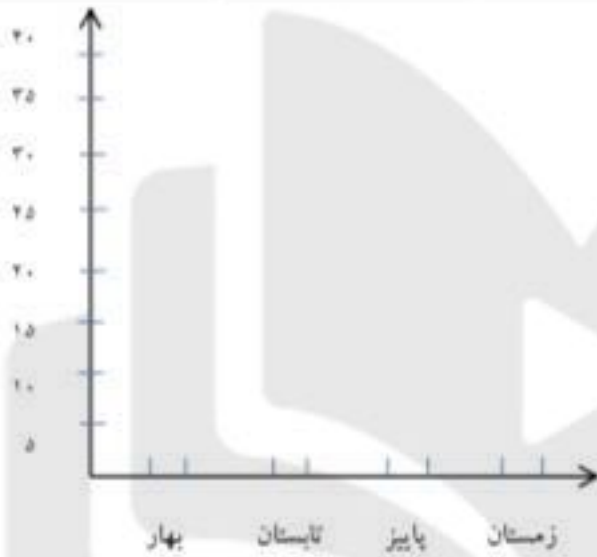


۳- در جدول زیر تعداد دانش آموزان کلاس سوم بر اساس فصل تولدشان نوشته شده است. مربوطه را رسم کن.

فصل	بهار	تابستان	پاییز	زمستان
تعداد	۲۰	۵	۵	۱۰



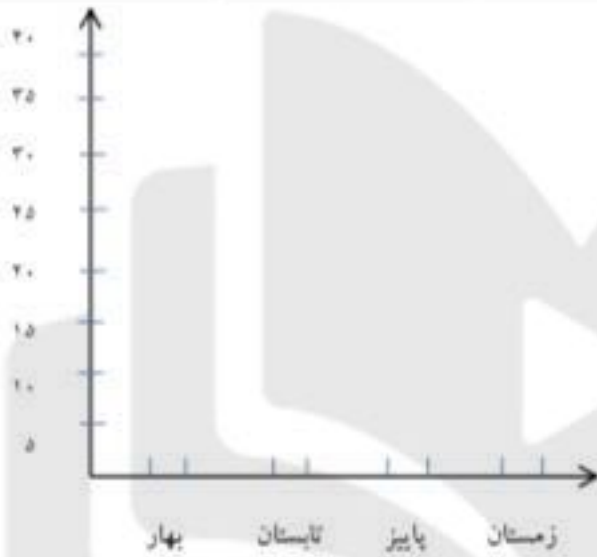
۴- نام شکل های زیر را بنویس.



۵- یک سکه را می اندازیم. چند حالت ممکن است اتفاق بیفتد؟ چرا؟

۳- درجدول زیر تعداد دانش آموزان کلاس سوم بر اساس فصل تولدشان نوشته شده است. مربوطه را رسم کن.

فصل	بهار	تابستان	پاییز	زمستان
تعداد	۲۰	۵	۵	۱۰



۴- نام شکل های زیر را بنویس.



۵- یک سکه را می اندازیم. چند حالت ممکن است اتفاق بیفتد؟ چرا؟

.....

۱- مدیر دبستانی تعداد علاقه مندان به بازی های فوتبال ، والیبال و هندبال را در بین کلاس های سوم جمع آوری کرد و در جدول زیر نوشت با توجه به آن ، سوالات را پاسخ بده.

سوم ۳			سوم ۲			سوم ۱		
هندبال	والیبال	فوتبال	هندبال	والیبال	فوتبال	هندبال	والیبال	فوتبال
۷	۹	۱۵	۴	۸	۱۰	۲	۱۳	۱۱

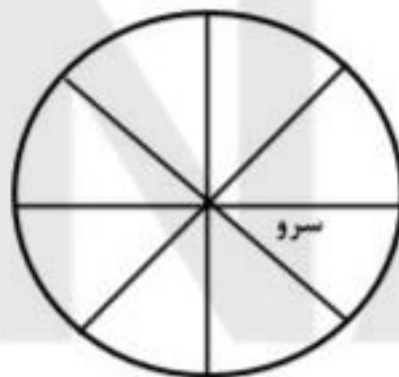
الف- تعداد دانش آموزان علاقه مند به هر سه ورزش در کلاس سوم چند نفر است ؟ .....

ب-تعداد علاقه مندان به والیبال در بین همه ی کلاس ها چند نفر هستند؟ .....

پ- تعداد علاقه مندان به فوتبال در کدام کلاس بیشتر است؟ .....


۲- جدول زیر تعداد چهار نوع درخت را در یک پارک نشان می دهد. نمودار دایره ای مربوط به اطلاعات جدول زیر را کامل کن.

تعداد	نوع درخت
۱۰۰	کاج
۵۰	سرو
۱۵۰	بلوط
۱۰۰	توت



۳- درجدول زیر تعداد دانش آموزان کلاس سوم بر اساس فصل تولدشان نوشته شده است. نمودار ستونی مربوطه را رسم کن.

فصل	بهار	تابستان	پاییز	زمستان
تعداد	۲۰	۵	۵	۱۰



۴- نام شکل های زیر را بنویس.



۵- یک سکه را می اندازیم. چند حالت ممکن است اتفاق بیفتد؟ چرا؟



تعداد دانش‌آموزانی که به شهرهای مختلف سفر کرده‌اند، در جدول زیر مشخص شده است:


شهر	تبریز	اصفهان	شیراز	مشهد	همدان	یزد
تعداد	۱۵	۱۵	۱۰	۳۰	۱۰	۱۰

اگر هر قسمت نشان‌دهنده‌ی ۱۰ نفر باشد، با رنگ کردن، وضعیت شهرهایی که این دانش‌آموزان به آن‌جا سفر کرده‌اند را نشان بده.



تعداد دانش‌آموزان مدرسه‌ای در این نمودار ستونی، نشان داده شده است. با توجه به این نمودار، به

سؤال‌های زیر پاسخ بده.



کدام پایه بیش‌ترین تعداد دانش‌آموز را دارد؟

کدام پایه کم‌ترین تعداد دانش‌آموز را دارد؟

تعداد دانش‌آموزان کدام پایه‌ها برابر است؟

این مدرسه در مجموع، چند دانش‌آموز دارد؟

جدول زیر تعداد کتاب‌های موجود در کتابخانه‌ی یک دانش‌آموز را نشان می‌دهد.

سرگرمی ۲۰ مذهبی ۳۰ داستانی ۲۵ علمی ۳۵

نمودار دایره‌ای مربوط به اطلاعات این جدول را کامل کن. (هر جای خالی نشان‌دهنده‌ی ۱۰ کتاب می‌باشد)

این دانش‌آموز در مجموع چند کتاب دارد؟

کتاب‌های مذهبی او چند تا بیش‌تر از کتاب‌های داستانی او است؟

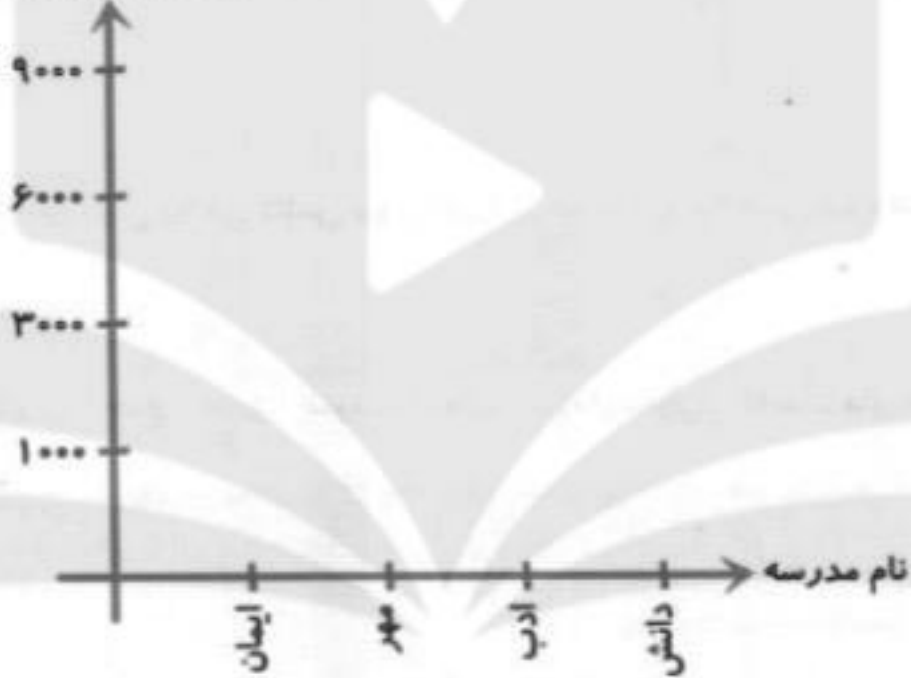
کتاب‌های سرگرمی او چند تا کم‌تر از کتاب‌های علمی اوست؟



با توجه به جدول زیر، نمودار را کامل کن و بنویس.

نام مدرسه	ایمان	مهر	ادب	دانش
تعداد دانش آموز	۳۰۰۰	۹۰۰۰	۶۰۰۰	۱۰۰۰

تعداد دانش آموزان



شکل‌های زیر مربوط به «مخروط» است، آن‌ها را کامل کن.



برای هر جمله، یک حالت را انتخاب کن.

- |                                |                          |                         |                          |
|--------------------------------|--------------------------|-------------------------|--------------------------|
| همه‌ی معلم‌ها «خانم» هستند.    | به طور حتم اتفاق می‌افتد | احتمال دارد اتفاق بیفتد | به طور حتم اتفاق می‌افتد |
| - در مدرسه درس می‌خوانیم.      | <input type="radio"/>    | <input type="radio"/>   | <input type="radio"/>    |
| - خورشید پشت ابر می‌ماند.      | <input type="radio"/>    | <input type="radio"/>   | <input type="radio"/>    |
| - اگر درس بخوانی، موفق می‌شوی. | <input type="radio"/>    | <input type="radio"/>   | <input type="radio"/>    |