

۱- سینا در قلکش ۶ اسکناس ۱۰۰۰ تومانی ، ۳ اسکناس ۵۰۰ تومانی و ۴ اسکناس ۲۰۰ تومانی دارد .

الف (سینا چند تومان پول دارد ؟

ب) اگر او بخواهد یک کتاب به قیمت ۴۷۰۰ تومان بخرد ، چند تومان برایش می ماند ؟

۲- جمع و تفریق های زیر را به روش فرایندی (از چپ به راست) انجام دهید .

۲۲۲۳

۴۲۲۴

۵۰۲۸

۷۹۲۳

+ ۳۲۱۹

- ۲۴۳۰

+ ۳۳۹۴

- ۵۰۳۶



DANA
LINE SCHOOL

۱- برای جمع زیر شکل بکشید و پاسخ دهید.

۵۲۱۹

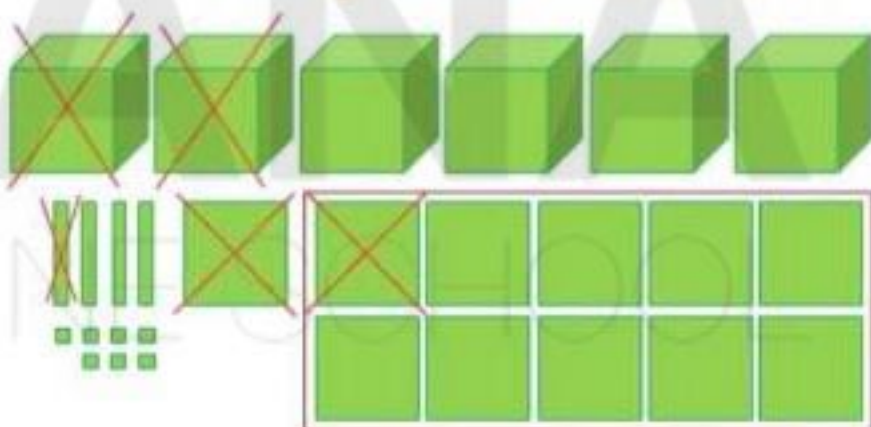
+ ۲۴۰۲

۲- تفریق زیر را به صورت فرایندی (از چپ به راست) پاسخ دهید.

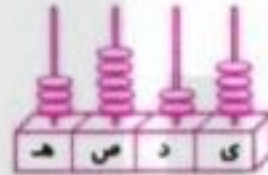
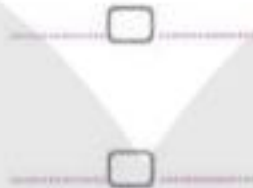
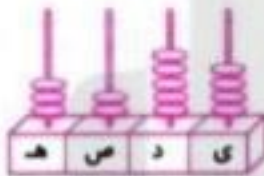
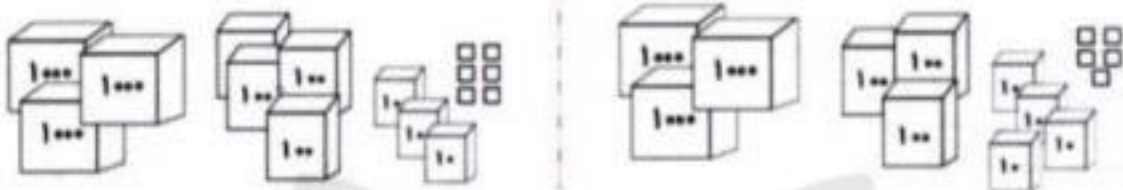
۴۶۵۱

- ۲۵۷۰

۳- برای شکل زیر یک عبارت تفریق بنویسید.



۱- هر شکل، چه عددی را نشان می‌دهد؟ عددها را با هم مقایسه کن.



۲- عددهای زیر را با توجه به علامت داده شده، مرتب کن.

۳۵۴۱ - ۳۴۵۱ - ۳۴۱۵ - ۳۵۱۴ - ۳۱۵۴ - ۳۱۴۵

< < < < <

۳- امیرحسین ۳۸۴۰ تومان و فاطمه ۵۶۷۲ تومان پس‌انداز کرده‌اند. کدام یک پول بیش‌تری پس‌انداز کرده است؟ چه قدر؟

۴- محیط شکل‌های زیر را به دست آور، سپس نام هر شکل را بنویس.



محیط :
نام شکل :

محیط :
نام شکل :

محیط :
نام شکل :



الف : با حذف یکان و دهگان عدد ها را به صورت تقریبی بنویسید. ب : حاصل هر عبارت را با عددهای تقریبی به دست آورید. ج : حاصل هر عبارت بین کدام دو عدد قرار می گیرد. (در دایره ها عددهای هزارتایی بنویسید).

۴۲۶۸ + ۳۲۴۶



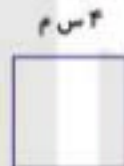
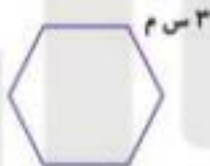
۹۸۶۴ - ۵۴۶۲

۲

۶۹۹۷ - ۳۸۷۵

۳۳۶۵ + ۴۵۱۲

محیط شکل های داده شده را با استفاده از ضرب به دست آورید.



۳

حاصل جمع و تفریق ها را به روش فرآیندی (گسترده یا بادکنکی) به دست آورید.

$$\begin{array}{r} ۴۶۴۵ \\ + ۱۳۲۳ \\ \hline \end{array}$$

$$\begin{array}{r} ۷۴۳۸ \\ - ۶۱۲۵ \\ \hline \end{array}$$

$$\begin{array}{r} ۳۲۴۱ \\ + ۴۳۲۷ \\ \hline \end{array}$$

۴

$$\begin{array}{r} + \\ \hline \end{array}$$

$$\begin{array}{r} - \\ \hline \end{array}$$

$$\begin{array}{r} + \\ \hline \end{array}$$

عددها را از کوچک به بزرگ مرتب کنید.

۴۰۱۰۰، ۴۰۰۰، ۴۰۳۰، ۴۰۰۸

۱۶۳۱، ۱۳۰۶، ۱۳۶۱، ۱۳۱۶

۵

اگر شکل پنجم این الگو از ۱۳ چوب کبریت درست شده باشد شکل ششم این الگو از چند چوب کبریت درست می شود؟

۱

۲

۳

۶

بدون رسم شکل ←

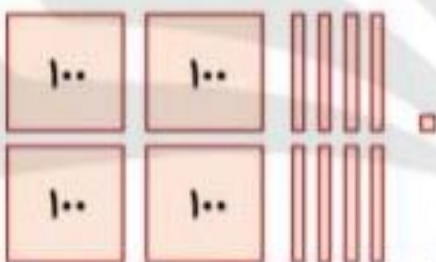
۷	سارینا در کیف پول خود دو اسکناس ۳۰۰۰ تومانی و یک اسکناس ۵۰۰۰ تومانی و سه سکه ۲۰۰ تومانی و چهار سکه ۱۰ تومانی و پنج سکه ۱ ریالی دارد. پول او چند تومان است؟
۸	پدر مهدی در حیاط خانه شان یک باغچه به طول ۷ متر و عرض ۴ متر درست کرده است و می خواهد دورش نرده بکشد به چند متر نرده نیاز دارد؟ پس از رسم شکل پاسخ دهید.
۹	جمع و تفریق زیر را به روش تکنیکی یا خلاصه انجام دهید.
	$\begin{array}{r} 5879 \\ + 1235 \\ \hline \end{array}$ $\begin{array}{r} 2986 \\ + 4679 \\ \hline \end{array}$ $\begin{array}{r} 7213 \\ - 4568 \\ \hline \end{array}$ $\begin{array}{r} 6002 \\ - 4789 \\ \hline \end{array}$
۱۰	حاصل عبارت ها را به دست آورید. $\times 13 + (3 \times 9) = \dots + \dots = \dots$ $\times (24 + 3) + (7 \times 5) = \dots + \dots = \dots$ $\times 42 + (9 - 2) = \dots + \dots = \dots$ $\times (12 - 3) \times (2 + 4) = \dots \times \dots = \dots$
۱۱	با رقم های ۲، ۴، ۰، ۶ کوچک ترین و بزرگ ترین عددهای چهار رقمی را بسازید. <div style="display: flex; justify-content: space-around; align-items: center;"> <div style="border: 1px solid black; padding: 5px; margin: 5px;">.....</div> <div>کوچک ترین:</div> <div style="border: 1px solid black; padding: 5px; margin: 5px;">.....</div> </div> <p>❖ تفاوت این دو عدد پس از محاسبه کردن، بنویسید؟</p>
۱۲	ارتفاع قله ی دماوند ۵۶۱۰ متر و ارتفاع قله ی سیلان ۴۸۱۱ متر از سطح دریاست. قله ی دماوند چند متر بلندتر از سیلان است؟
۱۳	جاهای خالی را با کلمات م مناسب پر کنید. ❖ مثلثی که ۳ ضلع برابر دارد نام دارد. ❖ مثلثی که ۲ ضلع برابر دارد نام دارد.
۱۴	سمیه ۹۰۳۴ جلد کتاب داشت. ۳۸۷۶ جلد آن را به کتابخانه ی عمومی و ۴۳۴۹ جلد آن را به مدرسه اهدا کرد. چند جلد کتاب برایش باقی مانده است؟



۳ - عددهای زیر را به ترتیب از کوچک به بزرگ بنویسید .

۵۶۱۰ - ۵۵۷۱ - ۵۶۰۱ - ۵۵۱۲

۴ - عدد مربوط به شکل را بنویسید و به سوالات آن پاسخ دهید .



..... به عدد :

..... به حروف :

عددی که نوشتی چند رقم دارد ؟

ارزش مکانی کدام رقم از همه بیشتر است ؟

این عدد را با بزرگترین عدد ۴ رقمی که با رقم های (۳ ، ۲ ، ۶ و ۴) می توانید

بنویسید مقایسه کنید .

