

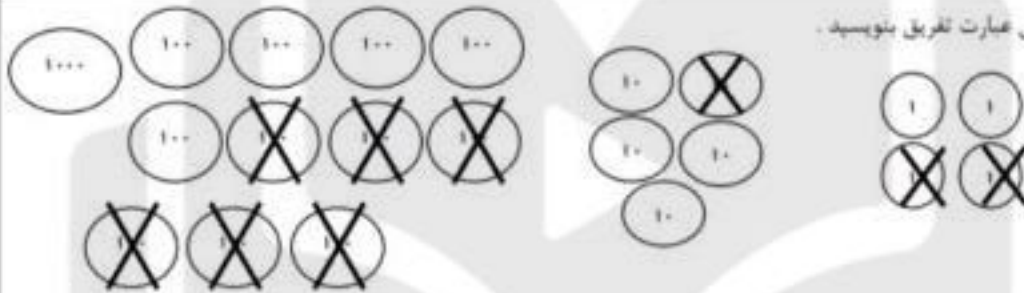
۶ جاهای خالی را پر کنید .

بهاره می خواست عدد ۴۸۶۰ را از ۷۳۹۰ کم کند. او باید یکی از بسته های تایی را باز کند و آن را تبدیل به ۱۰ بسته ی تایی کند . حالا می تواند تفریق را انجام دهد .

$$\begin{array}{r} 7390 \\ - 4860 \\ \hline \end{array}$$

پاسخ این تفریق را پیدا کن

۷. برای شکل مقابل عبارت تفریق بنویسید .



۸. قطاری ۵۳۶ مسافر داشت. در ایستگاه او ۴۰ نفر پیاده و ۲۲ نفر سوار شدند. در ایستگاه ششم ۲۵ نفر پیاده و ۳۰ نفر سوار شدند. حالا قطار چند مسافر دارد ؟



۹. محیط شکل های زیر را یک بار از راه جمع و یک بار از راه ضرب به دست آورید .



ضرب :
جمع :



ضرب :
جمع :

۱۰. حامد ۳۰ سکه ی ۱۰۰۰ ریالی دارد. او با چند سکه ۱۰۰۰۰ ریالی می تواند سکه هایش را عوض کند ؟



۱۱. حاصل عبارت های زیر را به دست آورید .

$$5 + (6 \times 8) =$$

$$6 \times (8 + 2) =$$

$$(5 \times 2) + (8 \times 2) =$$

$$(7 \times 2) + (5 \times 2) =$$

$$7 \times (6 + 2) =$$

$$7 \times (2 \times 2) =$$

۱۲. عددهای زیر را با حذف رقم یکان و دهگان به صورت تقریبی بنویسید .

۷۶۲۲ →

۲۳۸۹ →

۲۴۶۷ →

۵۸۲۳ →

۱۳. کدام عددها می توانند با ۳۸۹۴، دوهزار تایی اختلاف داشته باشند؟

سوال کلاسوری



DANA

۱. برای جمع و تفریق زیر شکل بکشید و حاصل آن را بدست آورید.

$$\begin{array}{r} ۴۶۹۳ \\ -۲۳۸۲ \\ \hline \end{array}$$



$$\begin{array}{r} ۱۲۴۷ \\ +۵۰۳۱ \\ \hline \end{array}$$

۲. دیروز در یک کوره آجر پزی ۴۳۶۸ قطعه آجر و امروز ۴۵۲۶ قطعه آجر ساخته شد. دیروز و امروز روی هم چند آجر در این کوره تهیه شده است؟

۳. حاصل جمع و تفریق های زیر را به صورت ذهنی بدست آورید.

$$(۸۰۰۰ - ۲۰۰۰) - ۳۰۰۰ = \dots\dots\dots$$

$$(۶۰۰۰ + ۴۰۰) + ۳۰۰ = \dots\dots\dots$$

$$(۴۳۰۰ + ۳۷۰۰) - ۴۰۰۰ = \dots\dots\dots$$

$$(۳۰۰۰ + ۵۰۰۰) - ۲۰۰۰ = \dots\dots\dots$$



۴. عدد های زیر را با هم مقایسه کنید و علامت $< = >$ بگذار.

$$۱۰۰۰ \square ۹۹۸$$

$$۴۶۷۰ \square ۵۱۵۰$$

$$۲۰۰۰ + ۱۸۰ \square ۱۰۰۰ + ۹۶۰$$

$$۸۵۰۰ - ۱۵۰۰ \square ۶۲۰۰ + ۱۰۰۰$$

$$۶۰۰۰ - ۲۰۰۰ \square ۳۵۰۰ + ۱۰۰۰$$

$$۳۴۱۰ \square ۵۴۰۰ - ۲۰۰۰$$

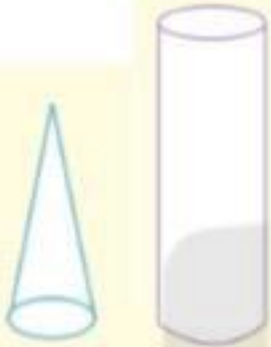
$$\begin{array}{r} ۷۲۳۸ \\ -۵۰۱۴ \\ \hline \end{array}$$

$$\begin{array}{r} ۶۳۰۷ \\ +۲۴۸۰ \\ \hline \end{array}$$

۵. حاصل جمع های زیر را به صورت فرآیندی بدست آورید.



سوال نام هریک از شکل های زیر را بنویسید.



DANA

ONLINE SCHOOL

برای حل درست یک مسا له گاهی کافیت حدس های خوب و درست بزئیم. و بعد حدس های خودمان را آزمایش کنیم.

مثال: عددی را چهار برابر کردیم و جوابش را با دو جمع کردیم، حاصل برابر ۱۴ شد، آن عدد را بدست آورید.
برای حل این سوال ابتدا با استفاده از روش های نمادین دوباره صورت سوال را می نویسیم:

$$(\text{---} \times 4) + 2 = 14$$

حال عدد های ممکن برای جای خالی را حدس بزئید و امتحان کنید.

مثال: به سه برابر عددی ۵ واحد اضافه کرده ایم حاصل برابر ۲۳ شده است آن عدد کدام است؟

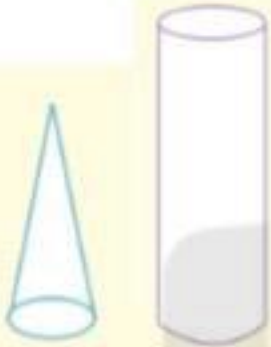
مثال: از ۴ برابر عددی ۴ واحد کم کرده ایم حاصل برابر ۲۰ شده است آن عدد کدام است؟

سوال: سکه ای را ۱۰ بار پشت سرهم پرتاب کرده ایم و هر بار پشت آمده است. آیا میتوانیم بگوئیم برای بار یازدهم سکه پشت می آید یا رو؟ چرا؟

DANNA

ONLINE SCHOOL

سوال نام هریک از شکل های زیر را بنویسید.



DANA

ONLINE SCHOOL