

۱- الگوی عددی روبرو را ادامه بده سپس روی محور با اعداد دیجیتالی نشان دهید.

۳, ۷, ۱۱, , ,

۲- نام شکل‌های زیر را روی خود شکل بنویس و بنویس چند ضلع و چند گوشه دارند.



حالا بنویس شکل‌های زیر چند ضلع، چند گوشه دارند.



شبهت‌ها و تفاوت‌های شکل ۲ و ۴ را بنویسید.

شبهت:

تفاوت:

۳- این نقطه‌ها را طوری به هم وصل کن

که یک هفت ضلعی داشته باشی.



روز به خیر عزیزم!

۱- حاصل جمع و تفریق های زیر را از راه فرآیندی به دست آور.

$$\begin{array}{r} 54 \\ + 27 \\ \hline \end{array}$$

$$\begin{array}{r} 79 \\ - 48 \\ \hline \end{array}$$

$$\begin{array}{r} 74 \\ + 18 \\ \hline \end{array}$$

$$\begin{array}{r} 83 \\ - 58 \\ \hline \end{array}$$

$$\begin{array}{r} 25 \\ + 44 \\ \hline \end{array}$$

۲- عدد های ۴، ۱۷، ۳۶، ۷۵، ۸۹ و ۱۲ را روی محور نشان بده سپس جمله ها را کامل کن.



عدد ۱۷ به نزدیک تر است یا به ؟

* عدد ۴ به نزدیک تر است یا به ۱۰ ؟

عدد ۷۵ به نزدیک تر است یا به ؟

* عدد ۳۶ به نزدیک تر است یا به ۴۰ ؟

عدد ۱۲ به نزدیک تر است یا به ؟

* عدد ۸۹ به نزدیک تر است یا به ؟

۳- گلم با رسم شکل حاصل عبارت ها را به دست بیاور.

$$\begin{array}{r} 14 \\ + 27 \\ \hline \end{array}$$

$$\begin{array}{r} 44 \\ - 24 \\ \hline \end{array}$$

$$\begin{array}{r} 45 \\ + 25 \\ \hline \end{array}$$

$$\begin{array}{r} 39 \\ - 28 \\ \hline \end{array}$$

۴- مریم مدادهای رنگی خودش را در ۳ ردیف ده تایی و ۵ یکی قرار داد. سارا هم مدادهای رنگیش را در ۶ ردیف ده تایی و ۳ یکی قرار داد. سارا و مریم با هم چند مداد رنگی دارند؟ (رسم شکل)

* با استفاده از خط کش و اتصال نقطه ها شکل خواسته شده را رسم کن.



۳ ضلع دارد.




۶ گوشه دارد.

* الگوی عددی و شکلی زیر را ادامه بده.


۳۰ ، ۳۳ ، ۳۷ ، ۴۲ ، ، ، ،



شکل اول



شکل دوم



شکل سوم

شکل چهارم

شکل پنجم

* برای هر شکل، چند خط تقارن می توانی رسم کنی.



.....



.....



.....



.....



.....



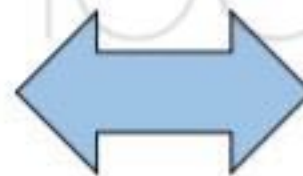
.....



.....



.....

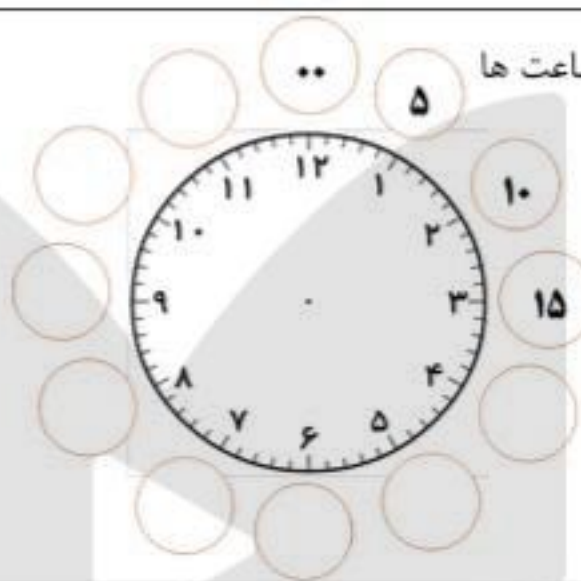
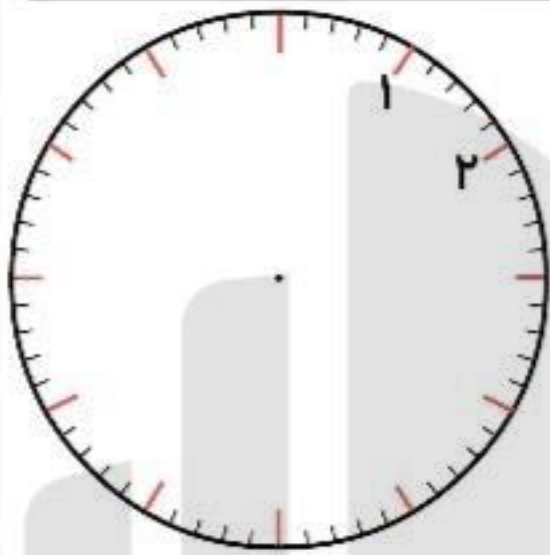


.....

ONLINE SCHOOL

☼ عددهای مربوط به ساعت ها

را بنویس .



☼ زمان هر ساعت را بنویس .

