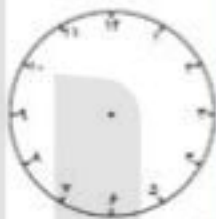
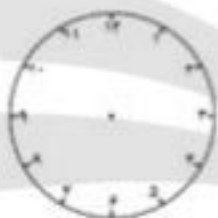




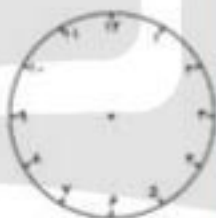
۷ ربع



یک ربع مانده به ۵



یک ربع بعد از ۲



نیم ساعت بعد از ۳



نیم ساعت قبل از ۵



یک ربع قبل از ۶

۱- ساعت چند است؟



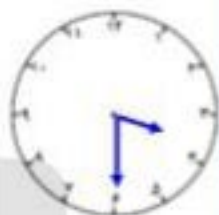
ساعت و دقیقه

ساعت و



ساعت و دقیقه

ساعت و



ساعت و دقیقه

ساعت و نیم

۲- اگر ساعت ۲ باشد، دو ساعت و نیم بعد، ساعت چند می شود؟

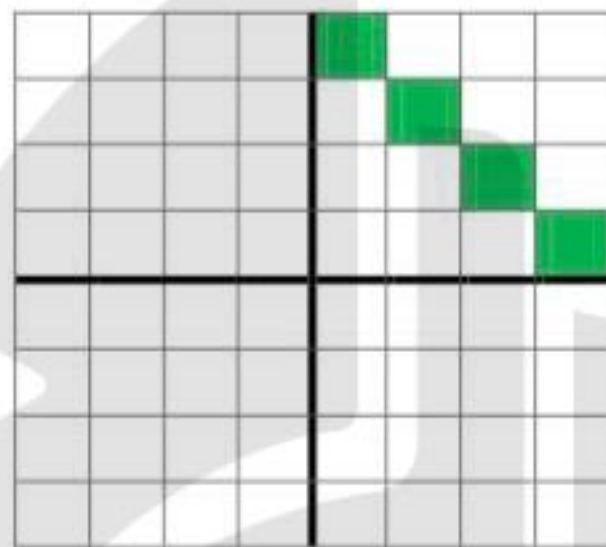
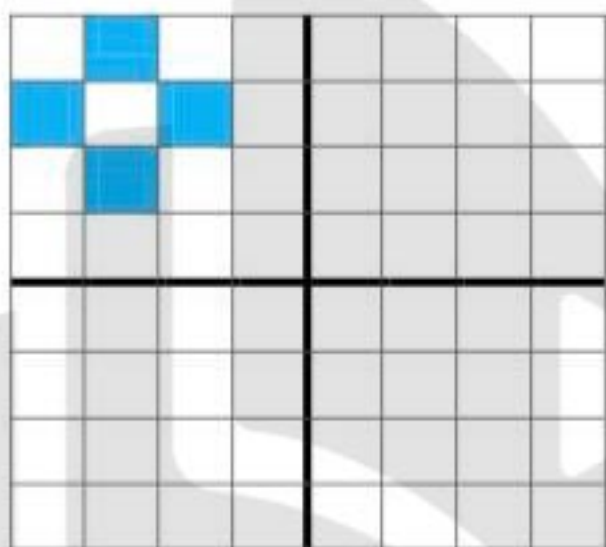


۳- نیم ساعت قبل از ساعت ۶:۱۵ چه ساعتی است؟



DANA
ONLINE SCHOOL


* سه قسمت دیگر شکل های زیر را با توجه به خط های تقارن کامل کن.



* زمان های داده شده را بر روی ساعت ها نشان بده و جمله های زیر را کامل کن.



۹:۰۰



نیم ساعت قبل از ۹



یک ربع بعد

دو ربع از ساعت ۳ گذشته یعنی ساعت است .

۳۰ دقیقه قبل از ۴:۴۵ یعنی ساعت بوده است .

۵۵ : ۱۰ دقیقه یعنی دقیقه مانده به ساعت ۱۱ .

DANA
ONLINE SCHOOL

۱- با دو کارت عدد دورقمی بسازید .

۶

۳

با عدد های ۷ و ۸ و ۰ عدد دورقمی بسازید .

۲- بزرگ ترین عدد دورقمی است .

یکان عددی ۸ و دهگان آن ۲ می باشد آن عدد چیست ؟

یکان عددی ۳ و دهگان آن ۵ تا بیشتر می باشد آن عدد چیست ؟

۹ دسته ی ده تایی منهای دسته ده تایی می شود ۴ دسته ده تایی

۳ دسته ی ده تایی به اضافه ی ۴ دسته ده تایی می شود دسته ده تایی

$40 + 10 + 10 + 5 =$

$60 - 20 =$

۳- حاصل را بدست آورید .

$20 + 30 + 4 + 10 + 5 =$

$50 - 20 =$

$10 - 20 - 30 -$

۴- الگو را ادامه بده

$7 - 14 -$

$96 - 95 - 94 -$

$5 - 10 -$

۵- در دریاچه ای ۵۴ ماهی قرمز و ۲۶ ماهی سیاه برای پرورش ریختند در این دریاچه چه تعداد ماهی قرمز

و سیاه ریختند ؟

۶- ۶۷ ستاره در آسمان بود . ۲۸ تا از آن ها زیر ابر بودند چند تا ستاره در آسمان مانده است ؟

$56 \rightarrow \dots$

$86 \rightarrow \dots$

۷- جواب سوال به صورت تقریبی به دست آورید

$24 \rightarrow \dots$

$32 \rightarrow \dots$

۱. دخترم جدول زیر را کامل کن .

شکل	نام شکل	تعداد ضلع	تعداد گوشه

	مثلث





۲. کدام یک از شکل های زیر ضلع های برابر دارد؟ آن را علامت بزن .



شکل هایی که علامت زدی چند ضلع و چند گوشه دارند ؟

..... ضلع و گوشه

..... ضلع و گوشه

۳. شکل های زیر را به عبارت مناسب وصل کن .



۵ ضلع و ۵ گوشه دارد.



۳ ضلع نامساوی دارد.



۴ ضلع مساوی دارد .



۳ ضلع برابر دارد.