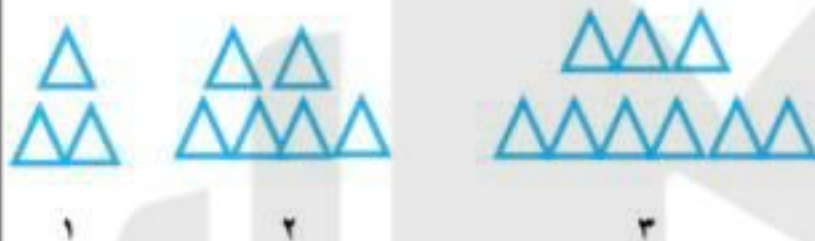


۶- باتوجه به تصاویر الگو به سوالات پاسخ بده.



۴

۶

الف: در شکل بالا الگو چه عددی است؟

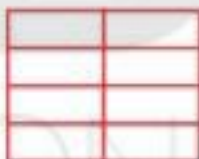
ب: بنویسید که تصویر شماره ۶ از چند مثلث تشکیل شده است؟

۷- دبستان فرشته ها ۳ طبقه دارد. هر طبقه ۵ کلاس و هر کلاس ۷ نیمکت دارد: (از راه جدول حل شود)

الف: دبستان فرشته ها چند کلاس دارد؟

ب: این دبستان چند نیمکت دارد؟

۸- شکل داده شده را به دو صورت دسته بندی کنید و جمع مربوط به هر دسته را بنویس.



۵- برنامه ی کودک تلویزیون ساعت ۱۵:۳۰ پخش می شود. زمان شروع این برنامه ساعت چند بعد از ظهر است؟

۶- اتوبوسی ساعت ۷ صبح از تهران به سوی تبریز حرکت کرد و بعد از ۹ ساعت به تبریز رسید. این اتوبوس چه زمانی به تبریز رسیده است؟ ساعت یا بعد از ظهر

۷- جدول زیر را کامل کنید.

زمان	۱۹	۱۶:۱۵		
بعد از ظهر			۱:۲۵	پنج و نیم

۸- الگوهای شمارش رو به عقب را کامل کنید.

..... - ۴۰ - ۴۲


..... - ۴۹ - ۵۶

..... - ۹۰ - ۹۵

DANA
ONLINE SCHOOL

۴) اتوبوسی ساعت ۱۱ صبح از بندر عباس حرکت کرد و ساعت ۶ بعدازظهر به مقصد رسید. این اتوبوس چند ساعت در راه بوده است؟

۵) شکل زیر را پنج تا پنج تا دسته بندی کن و با نوشتن جمع مناسب تعداد مربع ها را بدست بیاور.



۶) الگوی زیر را پیدا کنید و تا ۳ مرحله ادامه دهید.

۱۴ و ۱۶ و ۲۰ و ۲۶ و ۳۴ و _____ و _____ و _____

سوال 5:



$$3 + 3 + 3 + 3 = 12$$

$$5 + 5 + 5 + 2 = 17$$

سوال 6:

سوال 7:

کیبیت	1	2	3	4	5	6	7	8
سود	30	60	90	120	150	180	210	240

لغد از فروش 5 جعبه کیبیت 150 ریال سود می کند

بد اگر 8 جعبه کیبیت بفروشد 240 ریال سود می کند

سوال 8:

100 , 150 , 200 , 250 , 300



DANA
ONLINE SCHOOL

۳) جاهای خالی را کامل کنید.

الف) ۳ صدتایی و ۶ ده تایی و ۹ یکی می شود _____

ب) ۷ یکی و ۴ صدتایی می شود _____

۳) باز شده ی عددهای زیر را بنویسید

۶۲۷ _____

۲۳۱ _____

۵۰۹ _____

۴) مقایسه کنید و علامت مناسب ($>$ $=$ $<$) بگذارید.

$$۵۰۰ + ۲۰۰ \bigcirc ۵۰۰ - ۲۰۰$$

$$۶۷ \bigcirc ۷۶$$

$$۳۰۰ + ۱۰ + ۵ \bigcirc ۳۰۰ + ۲۰ + ۵$$

$$۳۰۱ \bigcirc ۲۰۹$$

۵) تعداد دانش آموزان کلاس اول و دوم مدرسه ای ۶۳ نفر است. تعداد دانش آموزان کلاس اول ۳۷ نفر است. دانش آموزان کلاس دوم چند نفرند؟

۶) جمع و تفریق های زیر را انجام دهید.

$$\begin{array}{r} * ۳۸۷ \\ + ۲۹۵ \\ \hline \end{array}$$

$$\begin{array}{r} * ۲۶۵ \\ + ۱۹۸ \\ \hline \end{array}$$

$$\begin{array}{r} * ۷۳۹ \\ + ۲۵۶ \\ \hline \end{array}$$

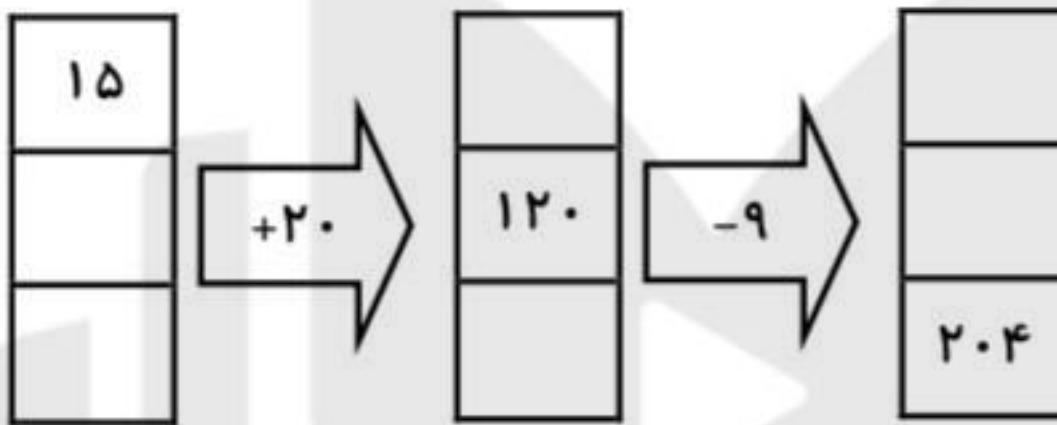
$$\begin{array}{r} * ۶۲۲ \\ + ۳۱۸ \\ \hline \end{array}$$

۷) الگوهای زیر را ادامه دهید.

۲۷۹ - ۲۶۹ - ۲۵۹ - _____ - _____ - _____

۶۲۵ - ۶۳۰ - ۶۳۵ - _____ - _____ - _____

۱) ماشین ورودی - خروجی زیر را کامل کنید.



۲) زمان های خواسته شده را روی ساعت نشان بده.

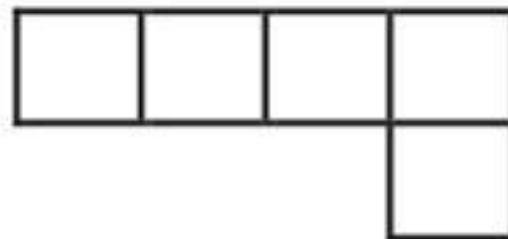
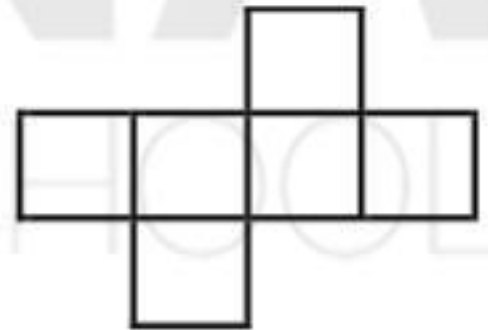


ساعت ۲۰:۳۰



ساعت ۱۴

۳) با کدام شکل می توان مکعب ساخت؟ آن را رنگ کن و بنویس چرا دو شکل دیگر را انتخاب نکرده ای.



۵- زمان ها را روی ساعت نشان دهید.



ساعت ۱۵:۲۰



ساعت ۲۰

DANA

ONLINE SCHOOL

۱- برای الگوی عددی زیر، الگوی هندسی رسم کنید.



۲- برای شمارش چند تا چند تا عبارت جمع بنویسید.

۶ و ۱۲ و ۱۸

۵ و ۱۰ و ۱۵ و ۲۰

۳- شکل ها را به صورت مختلف دسته بندی کن و به کمک شمارش چند تا چند تا عبارت جمع بنویس.



۴- عددهای ماشین زیر را بنویسید.

