

جمع های مربوط به عدد ۲ را بنویس

$$۲ + \text{---} = ۲$$

$$۰ + \text{---} = ۲$$

$$۱ + \text{---} = ۲$$

جمع های مربوط به عدد ۳ را بنویس

$$۲ + \text{---} = ۳$$

$$۰ + \text{---} = ۳$$

$$۱ + \text{---} = ۳$$

$$۳ + \text{---} = ۳$$

جمع های مربوط به عدد ۴ را بنویس

$$۳ + \text{---} = ۴$$

$$۴ + \text{---} = ۴$$

$$۱ + \text{---} = ۴$$

$$۰ + \text{---} = ۴$$

$$۲ + \text{---} = ۴$$

جمع های مربوط به عدد ۵ را بنویس

$$۲ + \text{---} = ۵$$

$$۴ + \text{---} = ۵$$

$$۵ + \text{---} = ۵$$

$$۳ + \text{---} = ۵$$

$$۱ + \text{---} = ۵$$

$$۰ + \text{---} = ۵$$

جمع های مربوط به عدد ۶ را بنویس

$$۲ + \text{---} = ۶$$

$$۵ + \text{---} = ۶$$

$$۶ + \text{---} = ۶$$


$$۴ + \text{---} = ۶$$

$$۱ + \text{---} = ۶$$


$$۰ + \text{---} = ۶$$

$$۳ + \text{---} = ۶$$

رنگ آمیزی کن



هشتاد



□




هشتاد و یک



به نام خدا

تأریخ اعداد


نام و نام خانوادگی:
با توجه به دسته های ده تایی و یکی ها
جدول را کامل کن و سپس عدد
مربوطه را بنویس و آن را بخوان.



□□




هشتاد و دو



□□□




هشتاد و سه



□□□□




هشتاد و چهار



□□□□□




هشتاد و پنج



□□□□□□




هشتاد و شش



□□□□□□□




هشتاد و هفت



□□□□□□□□



هشتاد و هشت



□□□□□□□□□



هشتاد و نه



حالا اعداد بالا را به ترتیب در خانه های
زیر بنویس.

Handwriting practice boxes for the numbers 80, 81, 82, 83, 84, 85, 86, 87, 88, 89, and 90.

نام زیبای من.....

دلبندم در جاهای خالی اعداد و حروف مناسب بنویس.

۲۹

سی و شش

۴۳

پنجاه

۸۲

شصت و چهار

۷۵

سی و پنج

۱۹

۹۵

۷۶

چهل و پنج

۸۷

شصت و هفت

۴۰

ONLINE SCHOOL

با توجه به جمع نوشته شده، با دو رنگ شکل بکش و جواب هر جمع را بنویس.

$$7 + 1 = \underline{\quad}$$

$$1 + 7 = \underline{\quad}$$

$$5 + 3 = \underline{\quad}$$

$$3 + 5 = \underline{\quad}$$

$$8 + 0 = \underline{\quad}$$

$$0 + 8 = \underline{\quad}$$

$$2 + 6 = \underline{\quad}$$

$$6 + 2 = \underline{\quad}$$

$$4 + 4 = \underline{\quad}$$



با توجه به انگشتان دست، برای هر قسمت یک جمع بنویس.





















نقطه های هر کلمه را جداگانه شما رو در جای خالی جمع مناسب آن را بنویس.

(جمع عددهای ۱۰)

..... + = میوه ی شیرین + شربت
..... + = تخت خواب + شیر شتر
..... + = پیش دُکتر + سپاس گذاری

برای هر کلمه با توجه به نقطه های خودش جمع بنویس.

مشهد + شیراز + چسب

..... + + =

چوپان + سوپ + نَجّار

..... + + =

تشکر + قناد + رقتند

..... + + =

به اندازه ی نقطه های کلمه ی دوم از کلمه ی اول کم کن و یک تفریق بنویس.

پسر - پدرش =

..... - =

کوچ - پر کشیدند =

..... - =

خواهر - خوابید =

..... - =

با توجه به جمع نوشته شده در هر قسمت، چینه‌ها را رنگ بزن. جواب جمع را بنویس.



$$7 + 3 = \underline{\quad}$$



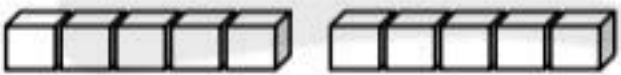
$$3 + 7 = \underline{\quad}$$



$$9 + 1 = \underline{\quad}$$



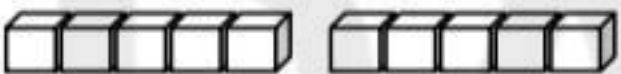
$$1 + 9 = \underline{\quad}$$



$$4 + 6 = \underline{\quad}$$



$$6 + 4 = \underline{\quad}$$



$$8 + 2 = \underline{\quad}$$



$$2 + 8 = \underline{\quad}$$



$$10 + 0 = \underline{\quad}$$

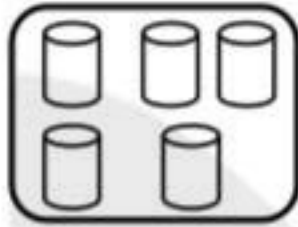



$$0 + 10 = \underline{\quad}$$





$$5 + 5 = \underline{\quad}$$

5- عدد هر دسته را بنویس و علامت $< = >$ بگذار .

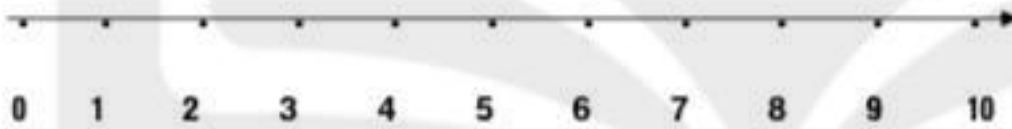


.....



.....

6- با کمک محور تفریق کن .



$$9 - 5 = \boxed{}$$

7- برای شکل تفریق بنویس .

— — — = —



8- عدد های ساعت را بنویس .



ضعیف

متوسط

خوب

عالی

1- جدول را کامل کن. (آزمون و خطا)

5	2	3	6	4	
6	4	1	3	5	
	3	5	2	1	6
	6	2	4	3	5
2	5			6	3
3	1			2	4



2- شکل را با چوب خط بشمار و عدد آن را در جدول و روی خط بنویس.



ده تایی	یکی



3- جمع کن. (به ذهن سپردن 5)


$6 + 7 = \square$

$7 + 8 = \square$

$9 + 5 = \square$

$7 + 7 = \square$

4- با توجه به جمع داده شده، چینه ها را با رنگ های مختلف رنگ کن؛ و جواب جمع را بنویس.



$4 + 5 + 4 = \underline{\quad}$

جمع های مربوط به عدد ۷ را بنویس

$۲ + \text{---} = ۷$	$۳ + \text{---} = ۷$	$۱ + \text{---} = ۷$	$۷ + \text{---} = ۷$
$۵ + \text{---} = ۷$	$۴ + \text{---} = ۷$	$۶ + \text{---} = ۷$	$۰ + \text{---} = ۷$

جمع های مربوط به عدد ۸ را بنویس

$۲ + \text{---} = ۸$	$۳ + \text{---} = ۸$	$۱ + \text{---} = ۸$	$۸ + \text{---} = ۸$	
$۶ + \text{---} = ۸$	$۵ + \text{---} = ۸$	$۷ + \text{---} = ۸$	$۰ + \text{---} = ۸$	$۴ + \text{---} = ۸$

جمع های مربوط به عدد ۹ را بنویس

$۲ + \text{---} = ۹$	$۳ + \text{---} = ۹$	$۵ + \text{---} = ۹$	$۹ + \text{---} = ۹$	$۱ + \text{---} = ۹$
$۷ + \text{---} = ۹$	$۶ + \text{---} = ۹$	$۴ + \text{---} = ۹$	$۰ + \text{---} = ۹$	$۸ + \text{---} = ۹$

جمع های مربوط به عدد ۱۰ را بنویس

$۵ + \text{---} = ۱۰$				
$۲ + \text{---} = ۱۰$	$۴ + \text{---} = ۱۰$	$۲ + \text{---} = ۱۰$	$۱ + \text{---} = ۱۰$	$۰ + \text{---} = ۱۰$
$۸ + \text{---} = ۱۰$	$۶ + \text{---} = ۱۰$	$۸ + \text{---} = ۱۰$	$۹ + \text{---} = ۱۰$	$۱۰ + \text{---} = ۱۰$

حاصل جمع و تفریق ها را پیدا کن

/// ///	□□□□□□□□	○○○○○○○○	
$۸ + ۶ =$	$۷ - ۵ =$	$۶ + ۳ =$	$۱۲ + ۴ + ۵ =$
$۳۰ + ۱۰ =$	$۵۰ + ۲۰ =$	$۵۵ + ۱۰ + ۵ =$	$۴۰ + ۲۰ + ۲۰ + ۵ =$
$۲۰ - ۱۰ =$	$۵۰ - ۲۰ =$	$۳۰ + ۱۰ - ۵ =$	$۶۰ + ۲۰ - ۲۰ =$
$۵۰ - ۵ =$	$۷۰ - ۵ =$	$۴۵ + ۱۰ - ۵ =$	$۹۰ + ۱۰ - ۵ - ۱۰ =$