


دور عدد مناسب هر دسته خط بکش.



۱۵

۱۴

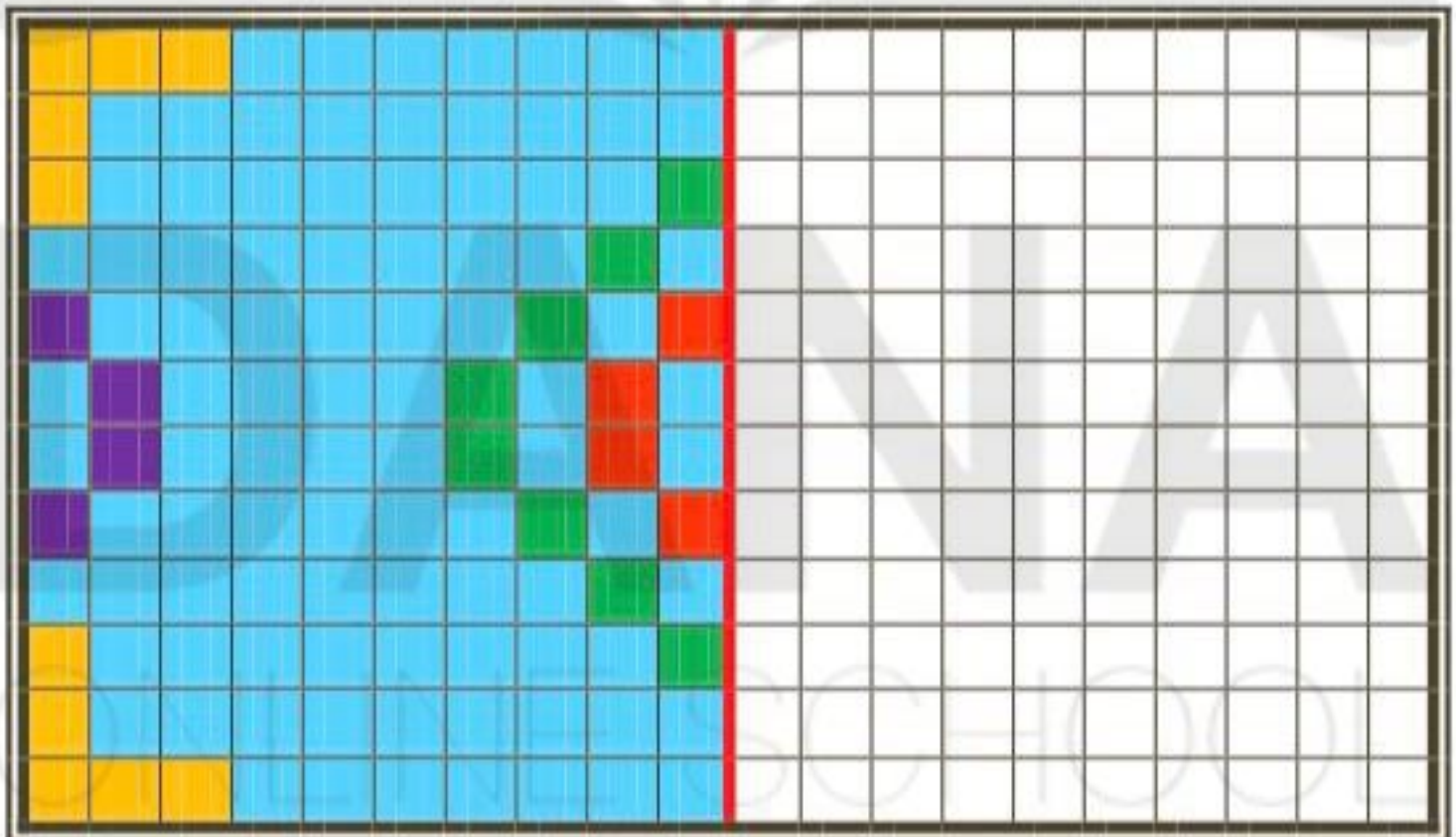
۱۶

۱۲

۱۵

۱۷


نیمه ی سمت راست جدول را مانند سمت چپ آن کامل و رنگ کن.



رنگ آمیزی کن



نود



□




نود و یک

یکی ده تایی

به نام خدا
کاردستی اعداد

نام و نام خانوادگی:.....
با توجه به دسته های ده تایی و یکی ها
جدول را کامل کن و سپس عدد
مربوطه را بنویس و آن را بخوان.




□□



نود و دو

یکی ده تایی




□□□



نود و سه

یکی ده تایی




□□□□



نود و چهار

یکی ده تایی




□□□□□



نود و پنج

یکی ده تایی




□□□□□□



نود و شش

یکی ده تایی




□□□□□□□



نود و هفت

یکی ده تایی




□□□□□□□□



نود و هشت

یکی ده تایی



□□□□□□□□□



نود و نه

یکی ده تایی

حالا اعداد بالا را به ترتیب در خانه های
زیر بنویس.


90

90			

رنگ آمیزی کن



هفتاد



یکی ده تایی


هفتاد و یک



به نام خدا

کار برگ اعداد


نام و نام خانوادگی:
با توجه به دسته های ده تایی و یکی ها
جدول را کامل کن و سپس عدد
مربوطه را بنویس و آن را بخوان.



یکی ده تایی




هفتاد و دو




یکی ده تایی




هفتاد و سه




یکی ده تایی




هفتاد و چهار




یکی ده تایی




هفتاد و پنج



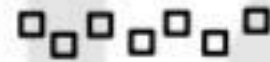
یکی ده تایی




هفتاد و شش



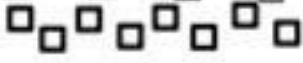
یکی ده تایی




هفتاد و هفت



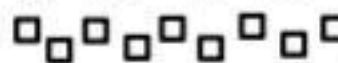
یکی ده تایی



هفتاد و هشت



یکی ده تایی




هفتاد و نه




حالا اعداد بالا را به ترتیب در خانه های
زیر بنویس.

Handwriting practice boxes for numbers 70, 72, 73, 74, 75, 76, 77, 78, 79.

رنگ آمیزی کن



هشتاد



یکی ده تایی


.....

هشتاد و یک

به نام خدا

تأریخ اعداد


نام و نام خانوادگی:
با توجه به دسته های ده تایی و یکی ها
جدول را کامل کن و سپس عدد
مربوطه را بنویس و آن را بخوان.



یکی ده تایی

.....

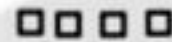

هشتاد و دو



یکی ده تایی

.....


هشتاد و سه



یکی ده تایی

.....

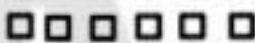

هشتاد و چهار



یکی ده تایی

.....


هشتاد و پنج



یکی ده تایی

.....


هشتاد و شش



یکی ده تایی

.....


هشتاد و هفت



یکی ده تایی

.....

هشتاد و هشت



یکی ده تایی

.....

هشتاد و نه

حالا اعداد بالا را به ترتیب در خانه های
زیر بنویس.

.....
.....
.....
.....

جمع ها را پاسخ بده و هر کدام که پاسخش از ۵ بیشتر است را رنگ کن.

$1 + 1 =$

$3 + 3 =$

$5 + 5 =$

$4 + 4 =$

$2 + 2 =$

$0 + 0 =$

جمع ها را پاسخ بده و هر کدام که پاسخش از ۵ کمتر است را رنگ کن.

$0 + 9 =$

$3 + 0 =$

$0 + 4 =$

$5 + 0 =$

$0 + 7 =$

$1 + 0 =$

جمع ها را پاسخ بده و هر کدام که پاسخش مساوی با ۵ است را رنگ کن.

$4 + 2 =$

$8 + 2 =$

$5 + 3 =$

$6 + 1 =$

$5 + 4 =$

$3 + 2 =$

$1 + 9 =$

$4 + 1 =$

$2 + 5 =$



دو عدد پیدا کن که جمع آن‌ها برابر با عددی باشد که بالای آن ستون نوشته شده است.



۷	۸	۹	۱۰
۷ ۰			
۶ ۱			
۵ ۲			
۴ ۲			
۳ ۴			
۲ ۵			
۱ ۶			
۰ ۷			



با توجه به عدد نوشته شده در بالای هر قسمت، شکل‌ها را کامل کن و برای آن‌ها یک جمع بنویس.

۶



$$+ \quad =$$

۶



$$+ \quad =$$

۶



$$+ \quad =$$

۶



$$+ \quad =$$

۶




$$+ \quad =$$

۶



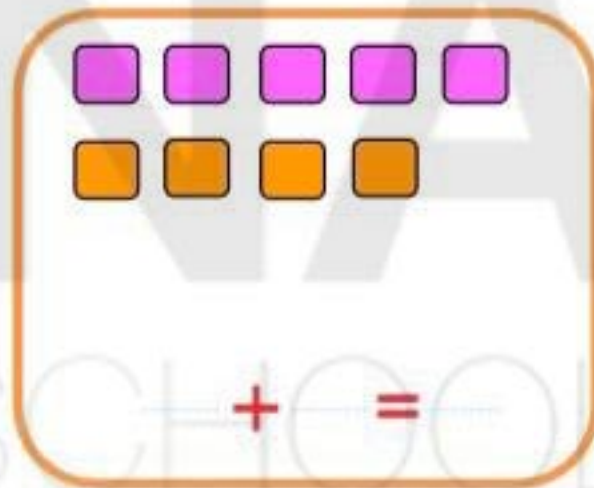
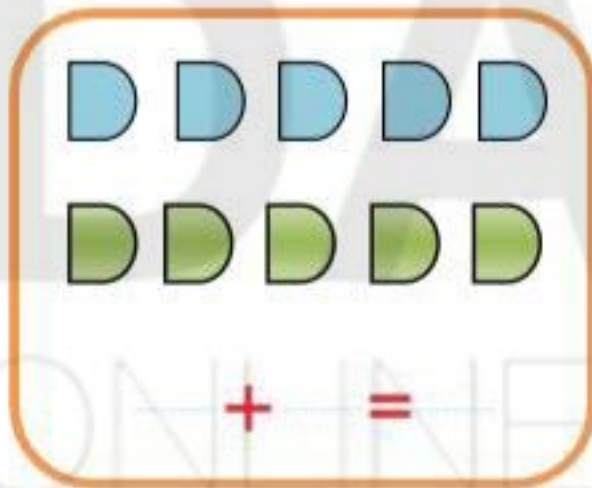
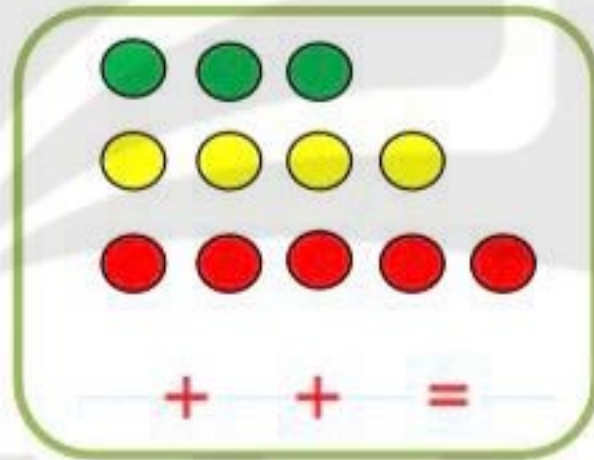
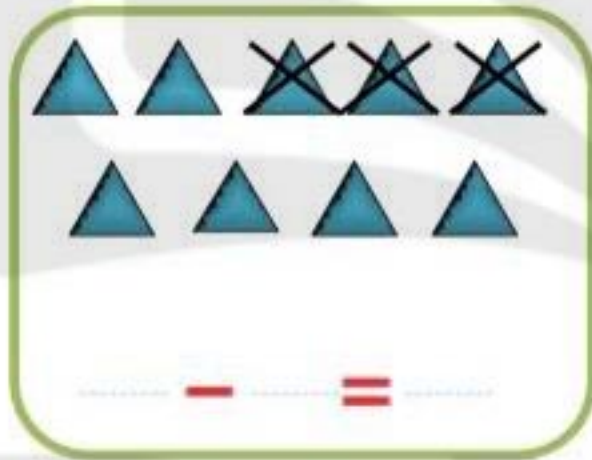
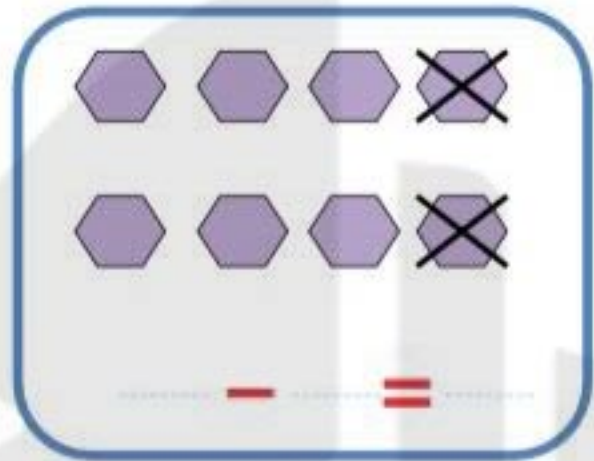
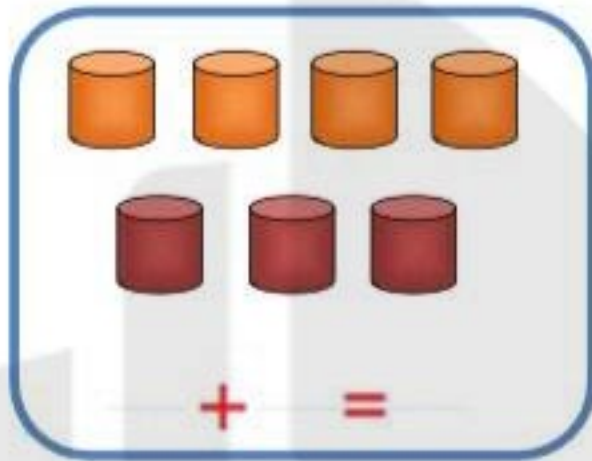
$$+ \quad =$$

۶



$$+ \quad =$$

پاسخ هر قسمت را نوشته و مقایسه کن و علامت مناسب کمتری یا بیشتر را انتخاب کن.



۱	۳	۸	۹	۷	۶	۵	۴	
۴	۲	۹	۸	۵	۳	۶		۱
۵	۶	۷	۱	۲	۴		۹	۸
۶	۷	۴	۵	۹		۲	۱	۳
۲	۸	۳	۷		۱	۹	۶	۵
۹	۱	۵		۶	۲	۷	۸	۴
۸	۴		۶	۳	۷	۱	۵	۹
۳		۶	۴	۱	۵	۸	۲	۷
	۵	۱	۲	۸	۹	۴	۳	۶



بلندی پادمچان کوتاه تر از است.



بلندی موز کوتاه تر از است.

به کمک انگشتان خود جواب جمع را پیدا کن و حساب کن دو دسته روی هم چند شکل دارند. یک جمع بنویس.



$$\square + \square = \square$$



$$\square + \square = \square$$

ادامه بده.

۱۱ - ۱۲ - ۱۳ -

- - -

ONLINE SCHOOL