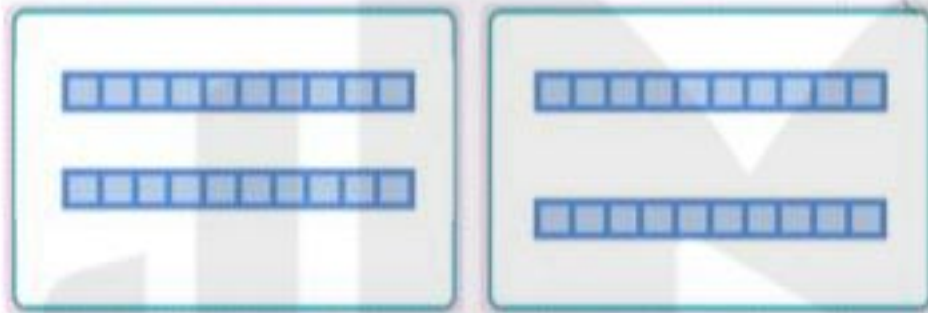


جواب جمع ها را بنویس .



$$40 + 10 = \dots$$



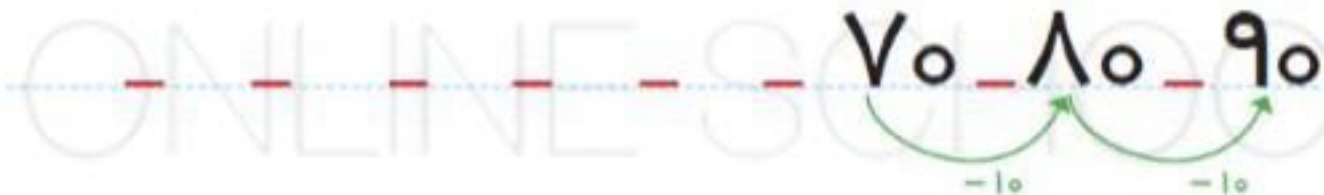
$$50 + 30 = \dots$$



$$10 + 30 = \dots$$



$$20 + 50 = \dots$$



مساله هارا با کمک شکل حل کن.

آتوسا ۳ گل قرمز و ۵ گل آبی در گلدان قرار داد . او چند گل در گلدان گذاشته است؟

۶ پرندۀ روی شاخه ی درختی نشسته بودند . ۴ تاز آنها پریدند . چند پرندۀ روی درخت است؟

اگر فرزانه ۹ مداد داشته باشد و ۷ تایی آن ها را بتراشد چند مداد را نتراشیده است؟

روی کیک تولد مینا ۵ شمع صورتی و ۲ شمع بنفش است . روی کیک چند شمع است؟

روی میز ۹ کتاب بود. پروانه ۶ کتاب را برداشت. چند کتاب روی میز است؟

مادر آزاده آتش پخته بود. آزاده در ۷ کاسه آتش ریخت. او باید در چند کاسه ی دیگر آتش بریزد تا در ۱۰ کاسه آتش ریخته باشد؟


پروین در حیاط خانه شان در سه ردیف ۵ تایی گل کاشت.

او چند گل کاشته است؟


امیر و جواد برادر هستند. آن ها هر کدام ۴ مداد خریدند. آن ها چند مداد خریده اند؟

DANA
ONLINE SCHOOL

با کمک محور جمع یا تفریق کن.



$$5 + 3 = \underline{\quad}$$



$$8 - 6 = \underline{\quad}$$



$$1 + 8 = \underline{\quad}$$

جمله ها را با نوشتن عدد مناسب کامل کن.



حاصل جمع ها را به صورت ذهنی پیدا کن.

$$۲۵ + ۱۰ = \square$$

$$۱۰ + ۵ = \square$$

$$۲۰ + ۵ + ۵ = \square$$

$$۵ + ۵ = \square$$

$$۱۰ + ۱۰ + ۵ + ۵ + ۱۰ = \square$$

۶۵ ۷۰ ۷۵



۵ ۱۰ ۱۵ ۲۰ ۲۵ ۳۰ ۳۵ ۴۰ ۴۵ ۵۰ ۵۵



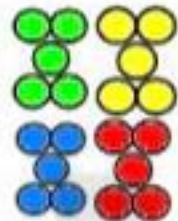
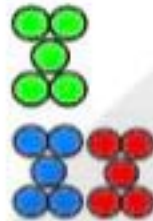
۳ بسته ده تایی ماهی در آب شنا می کردند.

۵ ماهی دیگر به آن ها اضافه شدند.

حالا چند ماهی در حال شنا هستند؟



جاهای خالی را کامل کن.



۵۳ ۵۴ ۵۵

۵ ۱۰ ۱۵


۴۰



۵۵ ۶۰ ۶۵




دسته هاس ده تایی درست کن. جدول را کامل و عدد مربوط به آن را بنویس.



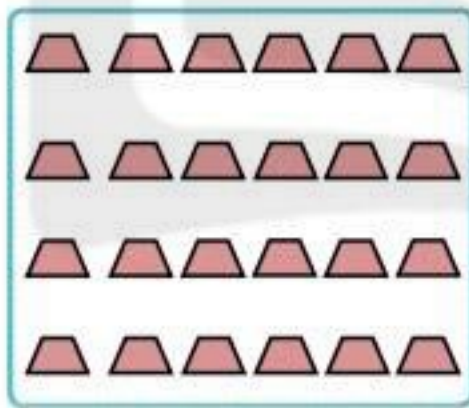
یکی ده تایی

Blank space for writing the number.




یکی ده تایی

Blank space for writing the number.




یکی ده تایی

Blank space for writing the number.




یکی ده تایی

Blank space for writing the number.



یکی ده تایی

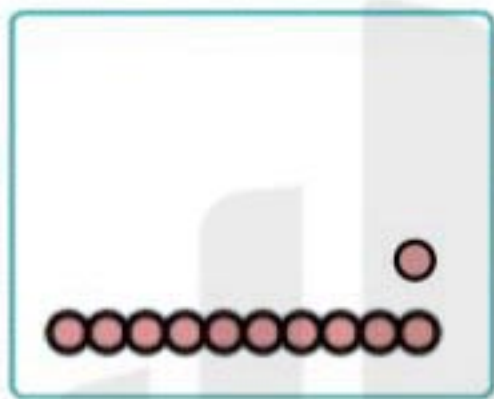
Blank space for writing the number.



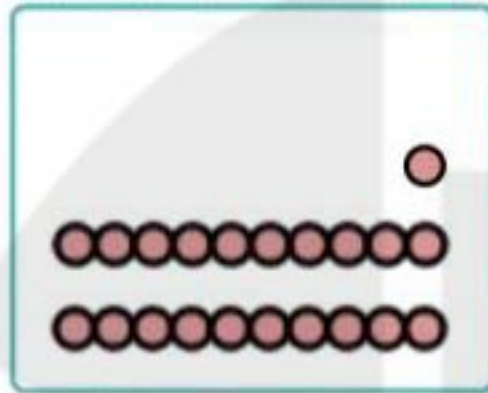
یکی ده تایی

Blank space for writing the number.

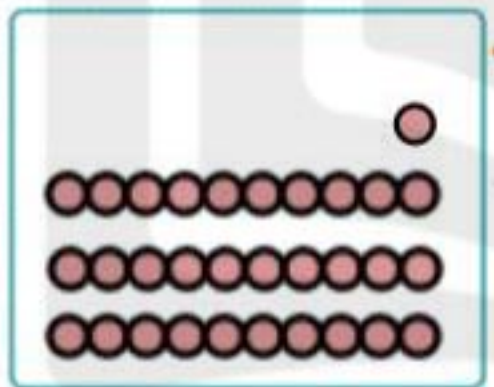
جایهای خالی را با عدد مناسب کامل کن.



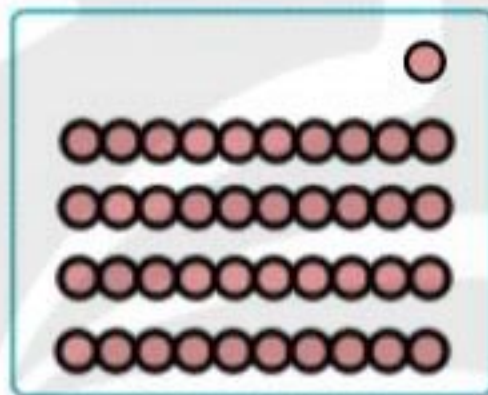
ده تایی | یکی



ده تایی | یکی



ده تایی | یکی



ده تایی | یکی

۱۱ - ۲۱ - ۳۱



۸۱ - ۹۱

ده تایی | یکی
۳ | ۴

ده تایی | یکی
۴ | ۴

ده تایی | یکی

ده تایی | یکی

ONLINE SCHOOL

၀	၄	၇	၂	၃	၆	၈	၅	၁
၆	၃	၅	၀	၁	၈	၄	၇	၂
၂	၈			၇	၄		၆	၃
၇	၀			၁			၈	၄
၈	၅	၄	၆	၂	၀	၁	၃	၇
၁	၆			၈			၀	၅
၅	၂			၄			၁	၆
၃	၁	၈	၇	၆	၂	၅	၄	၀
၄	၇	၆	၀	၅	၁	၃	၂	၈

2 + 12 =

< = >

6 + 3 =

برای هر مسئله یک شکل ساده بکش و جواب را بدست آور و روی محور نشان بده.



۵ گوسفند در دشت چرا می کردند.

۳ گوسفند دیگر به آن ها اضافه شدند.

چند گوسفند در دشت است؟



۸ خرگوش بازی می کردند.

۲ تا از خرگوش ها رفتند.

چند خرگوش باقی مانده است؟



۶ توت در بشقاب بود.

مادر ۴ توت دیگر آورد.

حالا چند توت در بشقاب است؟

