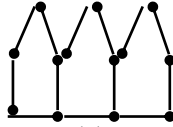


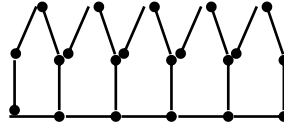
3- با توجه به الگوی زیر پاسخ دهید.



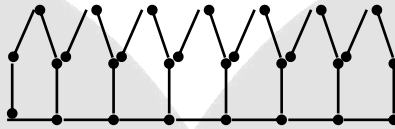
(1)



(2)



(3)



(4)


الف) اگر شماره‌ی شکل را با \triangle و تعداد چوب کبریت‌ها را با \square نمایش دهیم، چه

رابطه‌ای بین \triangle و \square وجود دارد؟


ب) شکل شماره‌ی 25 از چند چوب کبریت ساخته می‌شود؟

ج) با 341 چوب کبریت شکل چندم را می‌توان ساخت؟


4- با توجه به الگوی شکلی زیر، جدول را کامل کنید.




(1)



(2)



(3)



(4)

\triangle = شماره شکل	1	2	3	4	5			
\circ = تعداد مربع تیره	8	12	16			...	52	...
\star = تعداد مربع سفید	1	4		16		...		256

→ رابطه و ○ و △

→ رابطه ☆ و △



DANA

ONLINE SCHOOL