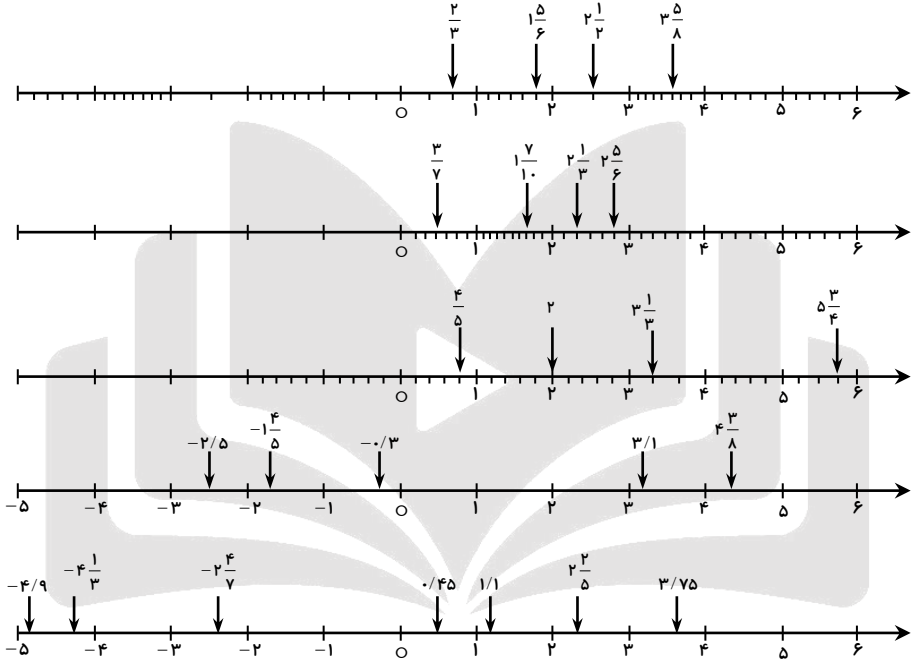
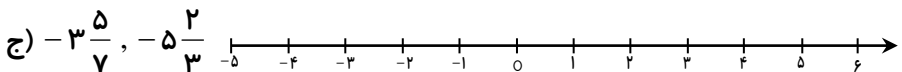
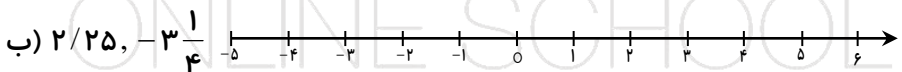
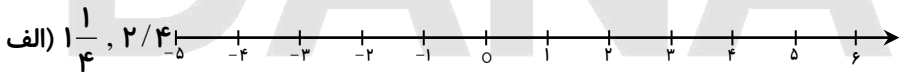


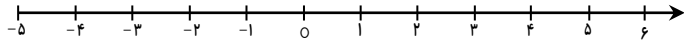
1- قرینه‌ی اعداد داده شده را روی محور مشخص نموده و مقدار عددی آن را بنویسید.



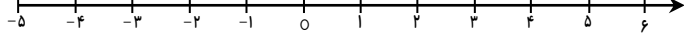
3- اعداد داده شده را به طور تقریبی روی محور نشان داده و با هم مقایسه کنید.



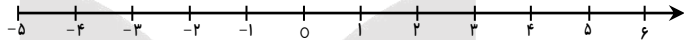
د) $0, -1\frac{2}{3}$



ه) $0/6, -4\frac{2}{3}$



و) $-3, -2/8$



5- در جاهای خالی اعداد مناسب قرار دهید.

....., , , -9, -12, -15, -18

....., , , -3/5, -1, 1/5, 4

6- درستی یا نادرستی عبارات زیر را مشخص کنید.

الف) عدد صفر، نه مثبت است و نه منفی.

ب) می‌توانیم به جای عدد $100+$ ، بنویسیم 100 .

ج) عدد $1000-$ از هم‌ای اعداد بین صفر تا 100 بزرگ‌تر است.

د) قرینه‌ی هر عدد منفی نسبت به مبدأ، عددی مثبت است.

ه) روی محور اعداد، هر چه به سمت چپ پیش برویم، عددها بزرگ‌تر می‌شوند.